

Lekcja

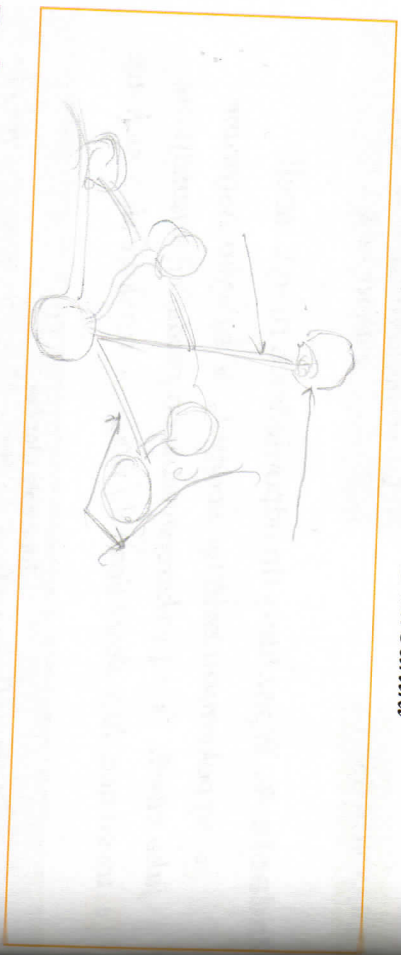
17

Poznaj grzyby i porosty



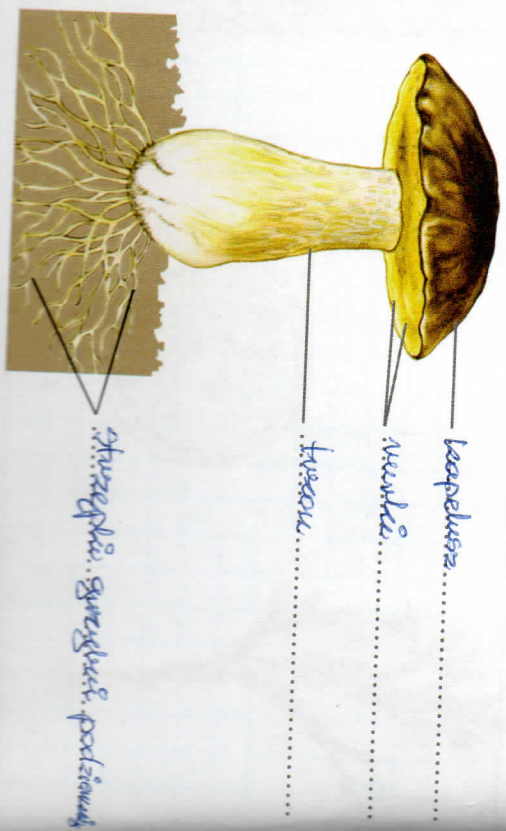
Zadanie 1. Na podstawie preparatu mikroskopowego wykonaj rysunek przedstawiający fragment plechy pleśniaka. Na rysunku podpisz wymienione elementy.

- strzępki
- zarodnie
- zarodniki



Zadanie 2. Na rysunku borowika podpisz poniższe elementy.

- rurki
- kapelusz
- strzępki grzybni podziemnej
- trzon





Zadanie 3. Wyjaśnij poniższe pojęcia.

- Grzybnia - całe ciało grzybla.
- Grzybnia - wytwarzają i budują ją. To wielokomórkowe, tworzą grzybnie podziemne i nadziemne z nich powstają grzyby.
- Trzonik - słupka. się z trzonem i kapeluszem. Długość w wielokomórkowej.

Zadanie 4. Podaj w punktach, do czego ludzie wykorzystują drożdże.

- piwowarstwo, spożywczo
- farmacja, fermentacja

Zadanie 5. Uzupełnij schematy dotyczące współzależności grzybów z innymi organizmami.



wraz z grzybami tworzą porosty

